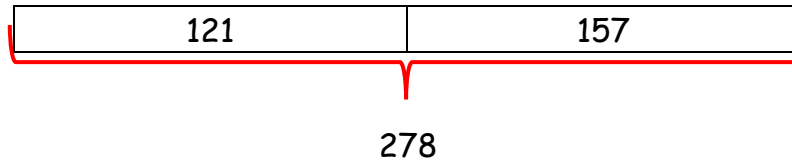


- Max ramasse des coquillages sur la plage, accompagné de Lili. Max ramasse un total de 121 coques et Lili 157 coques.

Combien de coques ont-ils ramassés à eux deux ?

Je cherche le nombre de coques que Max et Lili ont ramassé.



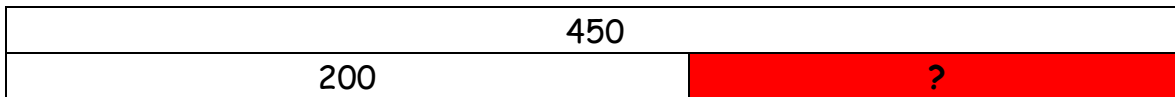
$$121 + 157 = 278$$

Max et Lili ont ramassé 278 coques.

- Papi donne à Julien sa collection de timbres. Julien avait 200 timbres, il en a maintenant 450.

Combien de timbres lui a donné papi ?

Je cherche le nombre de timbres que papi a donné à Julien.



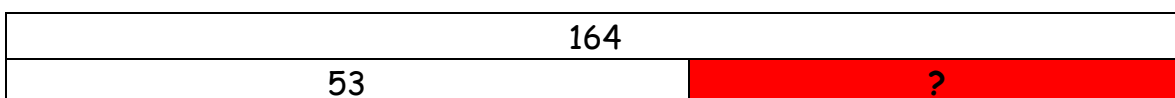
$$450 - 200 = 250$$

Papi a donné 250 timbres à Julien.

- Alex doit nourrir ses oiseaux avec des paquets de graines. Il avait acheté 164 paquets et aujourd'hui il ne lui reste que 53 paquets.

Combien de paquets Alex a-t-il déjà utilisé ?

Je cherche le nombre de paquets qu'Alex a déjà utilisé.



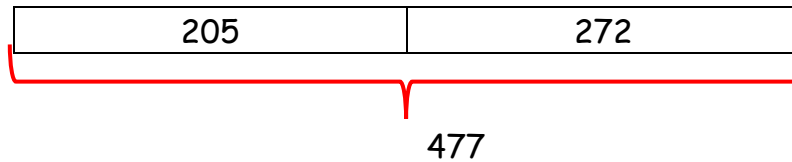
$$164 - 53 = 111$$

Alex a déjà utilisé 111 paquets de graines.

- Léane ramasse des mûres en forêt, accompagné de Clara. Léane ramasse un total de 205 mûres et Clara 272 mûres.

Combien de mûres ont-elles ?

Je cherche le nombre de mûres qu'ont Léane et Clara.



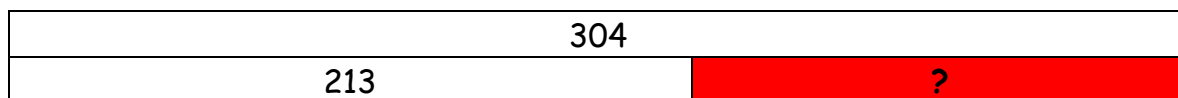
$$205 + 272 = 477$$

Elles ont 477 mûres.

- Thomas joue aux cartes à la récréation avec Loïk. Au matin, Thomas avait 304 cartes dans sa trousse. Après la récréation, il lui en reste 213.

Combien de cartes a-t-il perdu pendant la récréation ?

Je cherche le nombre de cartes que Thomas a perdu.



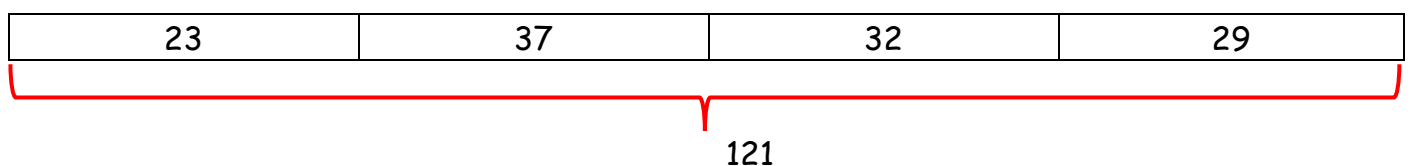
$$304 - 213 = 91$$

Thomas a perdu 91 cartes.

- Clélia et Margot vont au marché. Clélia prend 23 prunes, 37 cerises et 32 mirabelles. Margot prend 29 fraises.

Combien de fruits ont-elles dans leur panier ?

Je cherche le nombre de fruits qu'elles ont dans leur panier.



$$23 + 37 + 32 + 29 = 121$$

Elles ont 121 fruits dans leur panier.